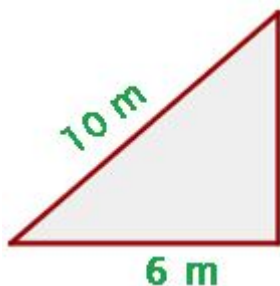
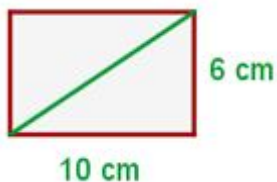


Ejercicios teorema de Pitágoras

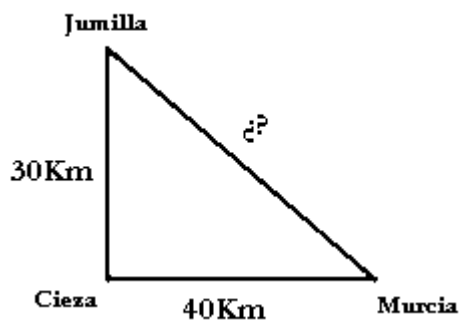
1. Los catetos de un triángulo rectángulo miden 9m y 12m. ¿Cuánto mide la hipotenusa?
2. Una escalera de 10m de longitud está apoyada sobre la pared. El pie de la escalera dista 6m de la pared. ¿Qué altura alcanza la escalera sobre la pared?



3. ¿Cuánto mide la diagonal del rectángulo?



4. ¿Qué distancia hay entre Murcia y Jumilla?



5. ¿Cuál es la altura de este triángulo equilátero? ¿Y su área?

